

කලාප අධ්‍යාපන කාර්යාලය - ගම්පහ

විකසිත - 2025

(5 ශ්‍රේණිය සිසුන් සඳහා විභව්‍යාමාන ඇසුරෙන් සැකසූ මාසික ඇගයීම් වැඩසටහන - අංක 02)

පැය එකයි

විභාග අංකය / නම - ශ්‍රේණිය -

විභාගයට පෙනී සිටින ඔබ සඳහා උපදෙස් -

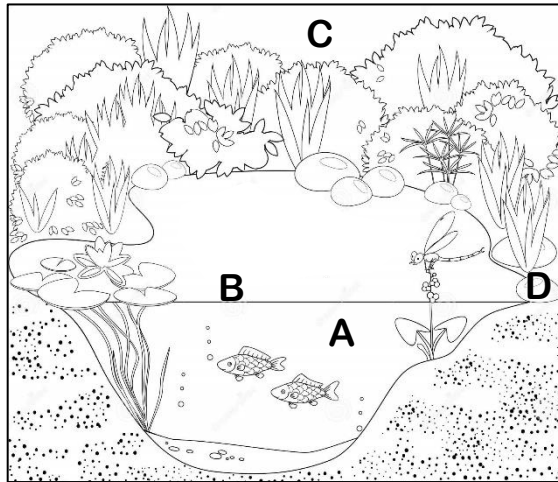
- * ඔබේ විභාග අංකය/ නම ඉහත කොටුව තුළ ඇති තිත් ඉර මත ලියන්න.
- * තුන්වන පිටුවේ ඇති නියමිත ස්ථානයේ ද ඔබේ විභාග අංකය/නම ලියන්න.
- * මෙම ප්‍රශ්න පත්‍රයේ ප්‍රශ්න 40ක් ඇත. ප්‍රශ්න සියල්ලටම මෙම පත්‍රයේ ම ලියන්න.
- * පිළිතුරු 3 ක් දී ඇති ප්‍රශ්නවල නිවැරදි පිළිතුර තෝරා යටින් ඉරක් අඳින්න.
- * පිළිතුරට යටින් ඉරක් අඳින්න කියා ඇති විට ඉරක් පමණක් අඳින්න.
- * කටුවැඩ කිරීම සඳහා කඩදාසියක් සපයනු ලැබේ.

උත්තර පත්‍ර පරීක්ෂකවරුන් සඳහා පමණි.

පිටු අංකය	ලැබූ ලකුණු
02	
03	
04	
05	
06	
07	
08	
අවසාන ලකුණු	
ඉලක්කමෙන්	
අකුරෙන්	

	කෙටි අත්සන හා සංකේතය
පළමු පරීක්ෂක	
ලකුණු දීමේ පටිපාටිය අනුව උත්තර පත්‍රය ඇගයීම් කළ බවට සහතික කරමි.	V/I/S
දෙවන පරීක්ෂක	
පළමු පරීක්ෂක කර ඇති ඇගයීම් නිවැරදි බවට සහතික කරමි.	V/I/S
ඇගයීම් ලකුණු තහවුරු කිරීමේ පරීක්ෂක ඇගයීම් කර , ප්‍රදානය කළ ලකුණු සහ එකතුව නිවැරදි බව තහවුරු කරමි.	V/I/S
ප්‍රධාන පරීක්ෂක	
අධීක්ෂණය කළෙමි.	
අවසාන ලකුණ නිවැරදිය.	V/I/S

- රූපය ඇසුරෙන් 1, 2 ප්‍රශ්නවලට පිළිතුරු සපයන්න.

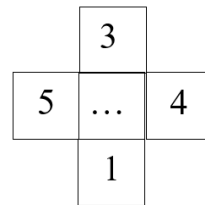
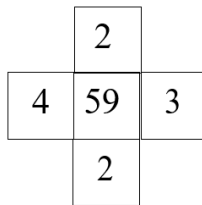
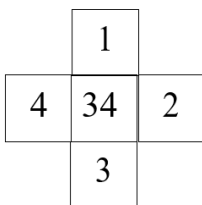


01. A හා B හි වාසය කරන සතෙකු නොවන්නේ
1. කුකුළා
 2. කිඹුලා
 3. කාරාචා
02. B, C හා D හි වාසය කරන සතෙක් වන්නේ
1. මාළුවා
 2. හංසයා
 3. ගිරවා
03. පහත දැක්වෙන රූපය නිරීක්ෂණය කරන්න. ඒ ඇසුරින් දී ඇති A, B හා C වගන්ති ඇසුරින් නිවැරදි ප්‍රකාශ පමණක් ඇතුළත් පිළිතුර තෝරන්න.



- A. මෙහි තිදෙනෙක් සිටගෙන සිටිති.
- B. ගැහැනු ළමයා යමක් කමින් සිටියි.
- C. ඔවුහු ඵලිමහනක සිටිති.

1. C පමණි
 2. A හා C ය
 3. A සහ B ය
04. අනුපිළිවෙලින් දක්වා ඇති අවස්ථා වන්නේ,
1. පුරසඳ , අමාවක , අවඅටවක , පුරඅටවක
 2. පුරඅටවක , අමාවක , පුරසඳ , අවඅටවක
 3. පුරඅටවක , පුරසඳ , අවඅටවක , අමාවක
05. සංඛ්‍යා රටාවෙහි හිස්තැනට ආ යුතු සංඛ්‍යාව වන්නේ,



1. 120
2. 47
3. 73

