

කලාප අධ්‍යාපන කාර්යාලය - ගම්පහ

විකසිත - 2025

(5 ශ්‍රේණිය සිසුන් සඳහා විභව්‍යතාමාන ඇසුරෙන් සැකසූ මාසික ඇගයීම් වැඩසටහන - අංක 5)

පැය එකයි

නම :-..... **ශ්‍රේණිය :-**

විභාගයට පෙනී සිටින ඔබට උපදෙස්

- ඔබේ විභාග අංකය ඉහත කොටුව තුළ ඇති තිත් ඉර මත ලියන්න.
- තුන්වැනි පිටුවේ ඇති නියමිත ස්ථානයේ ද ඔබේ විභාග අංකය ලියන්න.
- මෙම ප්‍රශ්න පත්‍රයේ ප්‍රශ්න 40 ක් ඇත. ප්‍රශ්න සියල්ලට ම පිළිතුරු මෙම පත්‍රයේ ම සපයන්න.
- සෑම ප්‍රශ්නයකට ම තුන බැගින් දී ඇත. ඒවා අතුරෙන් එක් එක් ප්‍රශ්නයට අදාළ නිවැරදි පිළිතුර තෝරා ඊට යටින් ඉරක් අඳින්න.
- පිළිතුරු ලිවීමට ඇති ප්‍රශ්නවල පිළිතුර තිත් ඉරේ මත ලියන්න.
- කටුවැඩ කිරීම සඳහා කඩදාසියක් සපයනු ලැබේ.

උත්තර පත්‍ර පරීක්ෂකවරුන් සඳහා පමණි.

පිටු අංකය	ලැබූ ලකුණු
02	
03	
04	
05	
06	
07	
08	
එකතුව	
අවසාන ලකුණු	
ඉලක්කමෙන්	
අකුරෙන්	

	කෙටි අත්සන හා සංකතේය
පළමු පරීක්ෂක	
ලකුණුදීමේ පටිපාටිය අනුව උත්තර පත්‍රය ඇගයීම කළ බවට සහතික කරමි.	V/I/S
දෙවන පරීක්ෂක	
පළමු පරීක්ෂක කර ඇති ඇගයීම නිවැරදි බව සහතික කරමි.	V/I/S
ඇගයීම් ලකුණු තහවුරු කිරීමේ පරීක්ෂක	
ඇගයීම කර, ප්‍රදානය කළ ලකුණු සහ එකතුව නිවැරදි බව තහවුරු කරමි.	V/I/S
ප්‍රධාන පරීක්ෂක	
අධීක්ෂණය කළේ අවසාන ලකුණු නිවැරදිය.	V/I/S


❖ රෂපය සම්බන්ධයෙන් නිවැරදි ප්‍රකාශය තෝරන්න.

01.




1. පාසලක දර්ශනයකි
2. වෙළඳපොළක දර්ශනයකි
3. අවුරුදු උත්සවයක දර්ශනයකි

02. රෂපය සම්බන්ධයෙන් වැරදි ප්‍රකාශය තෝරන්න.




1. මිනිසුන් තොරතුරු ලබාගන්නා ක්‍රමයක් දැක්වෙයි.
2. බොහෝ විට නිවස ආලින්දයේ දැකිය හැකි දර්ශනයකි.
3. රථ වාහන අලුත්වැඩියා කරන ස්ථානයකි.

❖ පහත A හා B රෂප ඇසුරෙන් 03 ප්‍රශ්නයට පිළිතුරු තෝරන්න.



A



B

03. A රෂපයට වඩා B රෂපයේ වෙනස්කම,

1. 2ක් දැකිය හැක.
2. 3 ක් දැකිය හැක.
3. 1 ක් දැකිය හැක

❖ නිවැරදි පිළිතුරු තෝරා ගැනීමේ ඉරක් ඇඳීම.

38. 2024 වර්ෂයේ ජනවාරි 03 වන දා ඉරිදාවකි. එම වර්ෂයට දින 53 බැගින් ඇති දවස් මොනවා ද?

1. සිකුරාදා - සෙනසුරාදා
2. ඉරිදා - සඳුදා
3. බ්‍රහස්පතින්දා - සිකුරාදා

39. මුදලකින් $\frac{1}{4}$ ක් රුපියල් 300.00 ක් වේ. එම මුදලින් $\frac{3}{10}$ ක් විය හැක්කේ,

1. රුපියල් 120.00
2. රුපියල් 360.00
3. රුපියල් 600.00

40. වෙළෙඳුන් තැඹිලි ගෙඩියක් රුපියල් 70.00 කට විකුණා රුපියල් 10.00 ක් ගෙඩියකින් පාඩු ලබයි. ඔහු තැඹිලි ගෙඩි 5 ක් විකුණා රුපියල් 100.00 ලාභ ලැබීමට තැඹිලි ගෙඩියක් විකිණිය යුතු මුදල කීය ද?

1. රුපියල් 100.00
2. රුපියල් 90.00
3. රුපියල් 120.00

කලාප අධ්‍යාපන කාර්යාලය - ගම්පහ